

2026年度 吉祥寺学園中等部 入学試験

社 会

1 「日本の歴史上の他の国との関わり」に関する次の資料1を読んで、あとの問いに答えなさい。

資料1


年代	説明文（調べた内容）
A およそ 2300 年前	中国や朝鮮から <u>米づくり</u> が伝わり、西日本を中心に広まった。
B 5～6 世紀	ヤマト王権が、 <u>渡来人の技術</u> を取り入れながら、各地の豪族や王を従えた。
C 743 年～752 年	<u>大仏づくり</u> が行われた。全国から集められた農民や渡来人などのべ 260 万人が働き、大仏の開眼式には、中国やインドから招かれた位の高い僧もふくめて、1 万人以上の人々が参加した。
D 9 世紀	遣唐使が停止されるなどの背景から、 <u>日本風の文化</u> が広がった。
E 13 世紀	モンゴルがアジアからヨーロッパにまたがる大帝国を築き、(あ)という国を作って中国を支配し、日本も従えようとして九州に攻め込んだ。
F 15～17 世紀	日本と中国、ヨーロッパ諸国との間で貿易が盛んに行われたが、江戸幕府はそれらを制限した。
G 1868 年	<u>明治時代</u> になり、西洋の制度や技術、学問などが日本に導入された。
H 1894～1945 年	日本は諸外国への侵略や大規模な戦争を繰り返すようになり、第二次世界大戦では、相手国と自国に大きな被害を生んだ。1945 年にアメリカを含む連合国に降伏し、敗戦した。

- (1) A の米づくりに関して、稲穂をかり取るのに使われた石の道具を何というか、答えなさい。
- (2) B の説明文について、ヤマト王権は日本列島のどの地域を中心に、どの地域までを支配していたと考えられるか。また、その理由は何か。以下の資料2・資料3と①～④の説明文を参考に、現在の県名を用いて簡単に説明しなさい。

- ① 資料2 埼玉県稲荷山古墳から出土した鉄剣。  
「ワカタケル大王」という文字が彫られている。
- ② 資料3 熊本県江田船山古墳から出土した鉄刀。  
「ワ□□□ル大王」という文字が彫られている。
- ③ ヤマト王権の王の古墳は3世紀後半から現在の奈良県を中心に作られたと考えられ、5世紀後半の王ワカタケルは「大王」と名乗ったことが分かっている。

資料2

資料3



④ 鉄は古代の日本では農業や武器に用いる貴重な資源である。奈良県では日本列島で最も古い時期の鉄剣や鉄刀が出土し、それ以外の地域では少し新しいものが出土している。

(3) Cの大仏づくりを命じた天皇は誰か、答えなさい。

(4) Dの日本風の文化について説明したのとしてまちがっているものを次のア～エから1つ選び、記号で答えなさい。

ア 天皇の後の教育係として仕えた紫式部が書いた「源氏物語」は、現在も世界の国々で読まれている。

イ 漢字を元にして、ひらがなやカタカナが作られた。

ウ 現在も続く能や狂言、茶の湯といった伝統文化は、この時期に生まれた。

エ 遣唐使の停止で中国との交流が少なくなり、貴族は日本に合った文化を作り出した。

(5) Eの説明文中の(あ)に当てはまる国の名前を答えなさい。

(6) Fの15～17世紀の間に起きた次のア～ウのできごとを、古い順にならびかえ、解答欄に合うように記号で答えなさい。

ア 各地の戦国大名がスペインやポルトガルと南蛮貿易を行った。

イ 足利義満が日明貿易を行った。

ウ 江戸幕府が貿易の相手をオランダと中国に限り、場所を出島に限定した。

(7) Gの明治時代に起きたできごととして正しいものを次のア～エから2つ選び、記号で答えなさい。

ア 福沢諭吉が「学問のすゝめ」を記し、人間は生まれながらにして平等だと説いた。

イ 西郷隆盛と板垣退助は政府を倒すために西南戦争を起こすが、二人とも政府軍に敗れた。

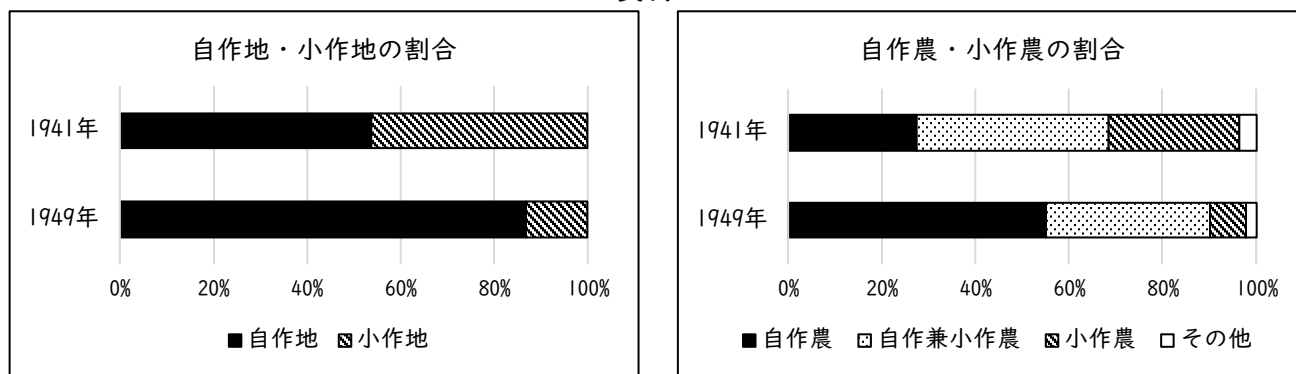
ウ 日本は日米和親条約でアメリカと国交を開き、鎖国の状態を終えた。

エ 小村寿太郎が条約を改正し、関税自主権を回復した。

(8) Hの侵略について、1910年に日本が併合した国(地域)はどこか。資料Iの説明文中にある国(地域)の中から1つ選び、答えなさい。

(9) Hの第二次世界大戦の敗戦後、日本では様々な改革の一つとして農地改革が行われました。次の資料4の2つのグラフから読み取れることとして正しいものをあとのア～エから1つ選び、記号で答えなさい。なお、自作農(地)は自らの土地を持つ農家とその土地、小作農(地)は地主のもとでお金を払って耕作をする農家とその土地のことを意味します。

#### 資料4



『農地改革顛末概要』より作成

- ア 1941年から49年にかけて、小作地の面積は増加した。
- イ 自作地よりも自作農の増加した割合が大きいため、農家一戸あたりの耕地面積は小さくなった。
- ウ 自作兼小作農と小作農を合わせた割合は、1941年から1949年にかけて増加した。
- エ 戦争で土地が荒れ果てたので、1949年の日本の農地の面積は減少した。

2 タロウさんは、第二次世界大戦終戦から80年経った2025年に、戦争に関する大きなできごとがある都県について調べ、以下の資料5を作りました。これを読み、あとの問いに答えなさい。

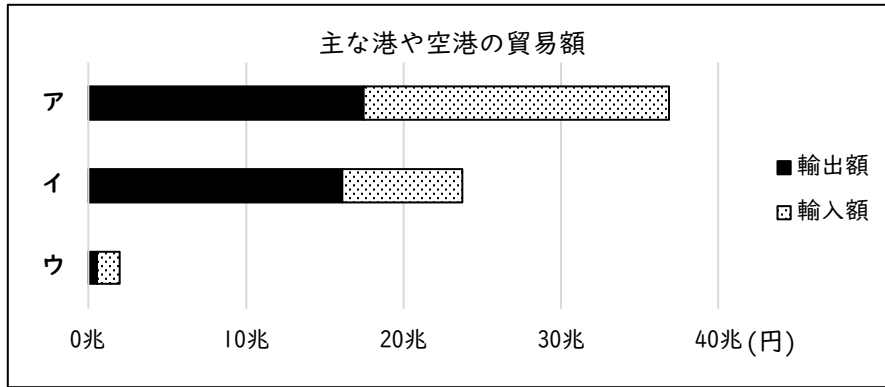
#### 資料5

都県名	県庁所在地名	地域区分	第二次世界大戦に関するできごと
A 東京都	「東京」	関東地方	1945年3月10日に大空襲を受けた。
B 広島県	広島市	(あ)地方	1945年8月6日に(い)が投下された。
C 長崎県	長崎市	九州地方	1945年8月9日に(い)が投下された。
D 沖縄県	那覇市		1945年3月から本土で唯一の地上戦の戦場となった。

(1) Aの東京都とその周辺では、人や物の交流が日々盛んに行われています。次の資料6は、成田国際空港、東京国際(羽田)空港、名古屋港のいずれかの主な輸出品を示したもので、あとの資料7は、各港の貿易額を示したグラフです。資料6・7のア～ウには同じ貿易港が入ります。成田国際空港にあたるものをア～ウから選び、記号で答えなさい。

- 資料6
- ア…半導体等製造装置 8.1% 半導体等電子部品 6.7% 科学光学機器 6.2%
  - イ…輸送用機器のうち自動車 23.2% 一般機械 22.4%
  - 輸送用機器のうち自動車の部品 16.8%
  - ウ…化学製品 16.2% 機械類・輸送用機器 12.6% その他 66.6%

資料7



令和7年東京税関HPより作成

(2) Bの(あ)に当てはまる地方区分名を、次のア～エから1つ選び、記号で答えなさい。

ア 北海道    イ 東北    ウ 中部    エ 中国・四国

(3) B・Cの(い)に関して、日本は戦争中にこの兵器を投下されたただ一つの国であることから、国際社会に平和を訴えるために「非核三原則」をかかげています。この「非核三原則」の内容を、解答欄に合うように書きなさい。

(4) C・Dの九州地方に関して、次の資料8はピーマンやトマトの生産量上位の県を示したグラフです。宮崎県や熊本県で行われているような、ビニールハウスや温暖な気候を生かして商品の出荷時期を早め、より高い価格で売れるようにする栽培方法を何というか、答えなさい。

資料8

トマトの生産量 上位5県	収穫量(トン)	ピーマンの生産量 上位5県	収穫量(トン)
熊本県	125,000	茨城県	31,800
愛知県	42,500	宮崎県	22,900
茨城県	39,500	鹿児島県	12,500
栃木県	27,300	高知県	12,400
岐阜県	25,500	岩手県	7,510

令和6年産指定野菜(春野菜, 夏秋野菜等)の作付面積, 収穫量及び出荷量(政府統計)より作成

(5) Dの那覇市のように、県名と県庁所在地名が異なるものの組み合わせとして正しいものを、次のア～エから1つ選び、記号で答えなさい。

ア 群馬県 — 宇都宮市  
 イ 愛媛県 — 名古屋市  
 ウ 茨城県 — 水戸市  
 エ 岡山県 — 岡谷市

- (6) 資料5のそれぞれの都市が行っている活動の中で、第二次世界大戦の被害や平和への思いを後世に伝えるための取り組みではないものを次のア～エから1つ選び、記号で答えなさい。

- ア 東京都小金井市では、平和の大切さや命の尊さを語り合い考える機会として、東京大空襲に特別の思いを持っている人が多い3月10日を「小金井平和の日」と定めた。
- イ 広島県広島市で8月6日に行われる平和祈念式典では、市内の各学校の6年生が書いた「平和の意見文」をもとに、代表児童2名が「平和への誓い」を読み上げる。
- ウ 長崎県長崎市では、8月15日のお盆に、死者の霊を船の模型や爆竹を用いて送り出す「精霊流し」という伝統行事が行われている。
- エ 沖縄県糸満市には、沖縄戦で亡くなった軍人・民間人など全ての人々の氏名を刻んだ記念碑である「平和の礎(いしじ)」が建てられている。

- (7) 次の文章は、ハナコさんが資料5の関東地方のいずれかの都県について調べたことをまとめて説明した文です。この説明文に当てはまる都県名を答えなさい。

海に囲まれていない内陸県であり、冬は隣の県に雪を降らせた後の乾燥した風が吹いてくるため、乾燥して晴天の日が多い。江戸時代から明治時代にかけて生糸を作るための養蚕業が盛んで、県内の富岡製糸場は2014年に世界文化遺産に登録された。現在ではキャベツの生産量が全国で第一位であるなど、同じ地方の大都市に向けて農産物の栽培がさかんである。

- 3 タロウさん、ハナコさん、先生の会話文を読んで、あとの問いに答えなさい。

タロウ：2025年の4月から10月にかけて、①大阪・関西万博が開催されていましたね。世界各地の展示が並んでいてとても面白かったです。

ハナコ：私は開幕日に行きました。開幕式で歌われた「1万人の②第九」や、国産の③木材も多く使われた「大屋根リング」など、その場で見て体験したものごとが後にニュースにもなっていて、実際に足を運んでよかったですと思いました。

先生：二人とも楽しめたようですね。今回は特に前回の大阪万博との関連が取り上げられることが多かったですが、他の県でも万博が開催されたことがあるのですよ。

タロウ：1970年に同じ大阪で万博が開かれたことがあるということはニュースで聞きました。それ以外の場所でも万博が行われたことがあるのですね。

ハナコ：私とタロウさんの二人で、万博について調べてみます。

～後日～

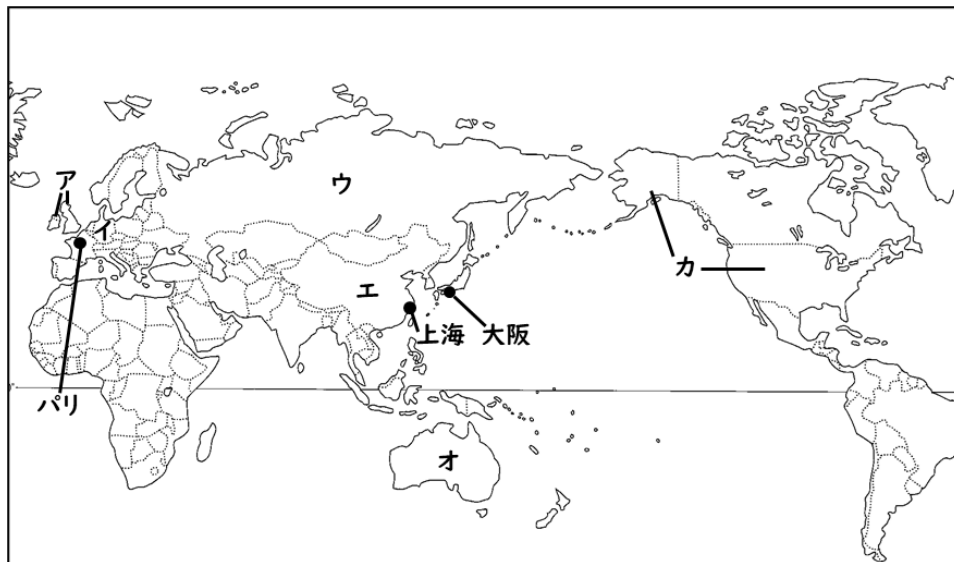
タロウ：調べたことを発表します。万博とは、正式名称を「万国博覧会」と言い、世界各国の様々な物を展示する場ということでした。現在までいつ、どこで万博が開かれたか、年表と略地

図にまとめました。オリンピックやパラリンピックとは異なり数年おきに開かれ、開催地は先進国に多いことが分かりました。また、始まったばかりの万博では、イギリスなどのヨーロッパの国々が、アフリカなどから強制的に持ち帰った物も展示されていたようです。

### 年表

開催年	名称	内容
1851	ロンドン万国博覧会	史上初の万博。
1867	パリ万国博覧会	日本の使節団も参加した。
1970	日本万国博覧会(大阪万博)	日本で初めての開催。
2005	「④愛・地球博」	自然環境の保護もテーマになった。
2010	上海万博	史上最多の入場者数を記録。
2025	大阪・関西万博	大阪で二度目の開催。

### 略地図



ハナコ：また、各国のパビリオン（展示）を調べました。例えばインド館では、月面を目指した「チャンドラヤーン 3 号」の展示、トルコ館では過去に広大な帝国を築いた国から現在までつなげる歴史の展示など、様々なものがありました。どの国も、自国が誇る技術や歴史、文化を人々に知ってもらいたいという思いを感じました。

先生：そうですね。その国に旅行に行かなくても文化や技術を体験することができる貴重な機会だったことと思います。現在は日本国内にも世界各地の国や地域にルーツを持つ人々が、観光や留学、就職など様々な目的を持って訪れています。そのような人たちと共に暮らしていくためにも、世界に目を向ける⑤国際的な姿勢は重要ですね。

タロウ：私もそう思いました。しかし、2025年の夏に行われた⑥参議院議員選挙では、「外国人による犯罪が増えている」という不確かな情報が SNS で投稿され、話題になっていました。

ハナコ：私もその投稿を見たことがあります。それを取り上げて「外国人への政策」を選挙の争点にする政治家もいて、私は悲しい気持ちになりました。そのような意見に流されることがないよう、まず「外国人による犯罪かどうか」を根拠なく勝手に判断してはいけないことや、(A)などを理由にどんな人も差別をしてはいけないことを忘れずに過ごしたいと思います。

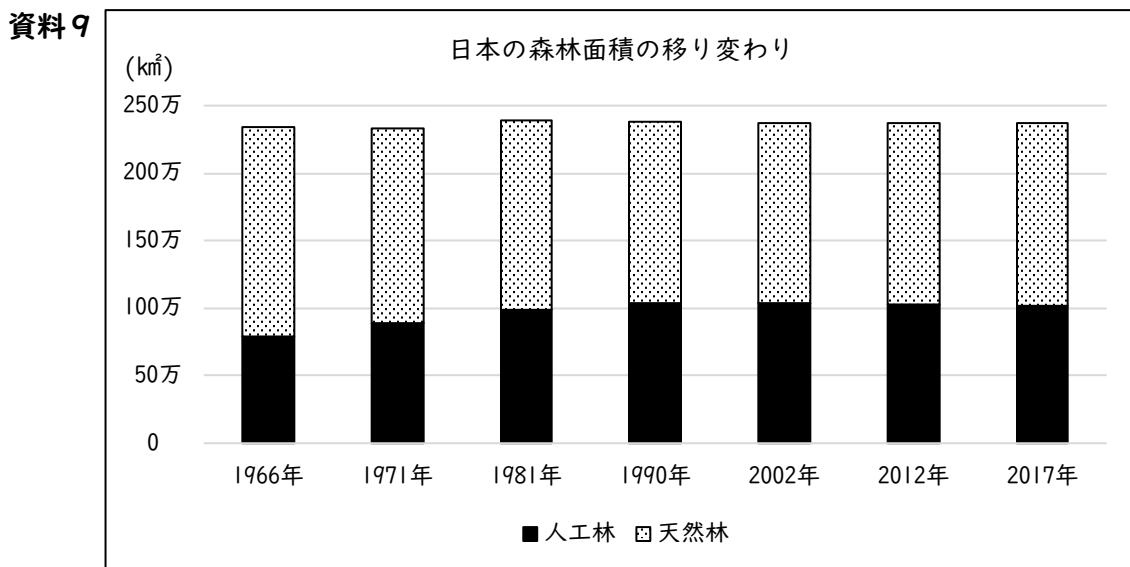
先生：そうですね。日本国憲法では基本的人権として「表現の自由」を保障していますが、同時に人々の平等を保障しています。ハナコさんの言う通り、「差別をしない」は当たり前のことだからこそ、何度も自分や周囲の人々と確かめ合っていないといけないですね。

- (1) 会話中の下線部「①大阪・関西」について、大阪府は関西地方にあると分類されることもありますが、日本を七つの地方に分類した際には近畿地方に分類されます。近畿地方に属する府県としてまちがっているものを次のア～エから1つ選び、記号で答えなさい。

ア 兵庫県    イ 京都府    ウ 和歌山県    エ 岡山県

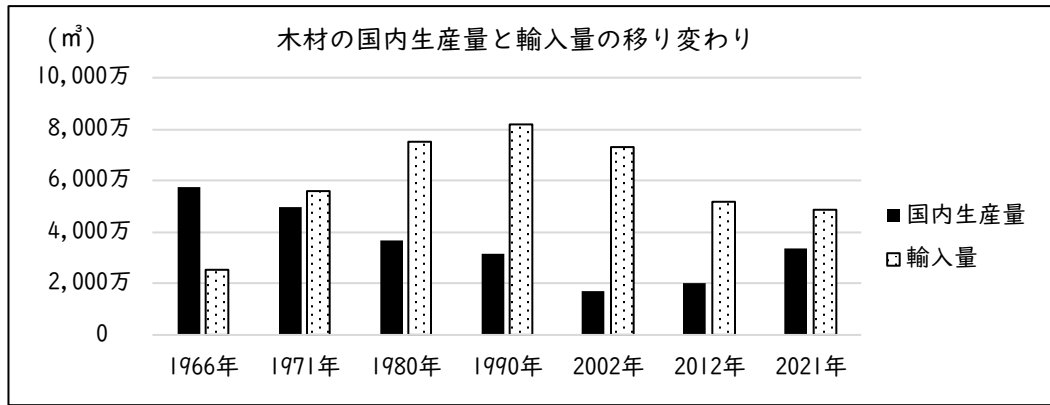
- (2) 会話中の下線部「②第九」とは、一般的にルートヴィヒ・ヴァン・ベートーヴェン作曲の「交響曲第九番（合唱付き）」を指します。ベートーヴェンが生まれた国であるドイツと、年表のロンドンがある国はそれぞれどこにあたるか、略地図から選び、記号で答えなさい。(完答)

- (3) 会話中の下線部「③木材」について、次の資料9は「日本の森林面積の移り変わり」を、次のページの資料10は「木材の国内生産量と輸入量の移り変わり」を表したものです。これらから読み取れることとして正しいものをあとのア～エから選び、記号で答えなさい。



統計年鑑(2017年のみ)・林野庁「森林資源の現況」より作成

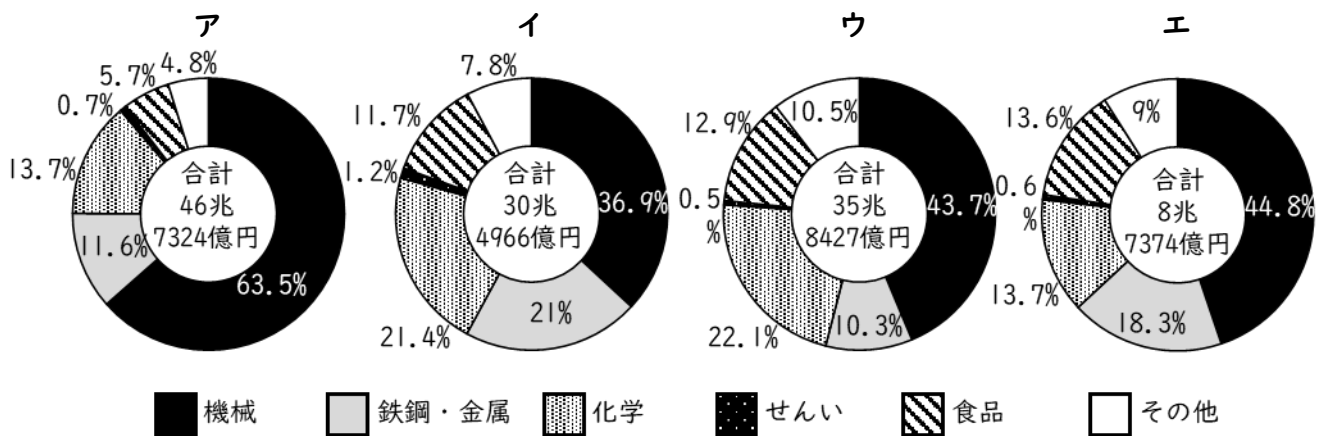
資料 10



木材需給表(長期累計)より作成

- ア 1966年から1971年にかけて、天然林の面積は増加している。
- イ 木材の国内生産量と輸入量を合わせた量は、1966年よりも1990年の方が多い。
- ウ 国内における森林全体の面積は、1971年から2017年にかけて減少し続けている。
- エ 2つの資料から、人工林の面積が増えると、木材の国内生産量が増えることが分かる。

(4) 年表の「④愛・地球博」という名称には、トヨタ自動車の本社があることでも有名な開催地の県名が含まれています。下のグラフは、日本の4つの工業地帯の工業生産額とその内訳を示したものです。「愛・地球博」の開催県を含む工業地帯のグラフとして正しいものを次のア～エから1つ選び、記号で答えなさい。



2022年 経済構造実態調査より作成

(5) 会話中の下線部の⑤国際について、日本と世界の国々との関わりについて説明したものとしてみちがっているものを次のア～エから1つ選び、記号で答えなさい。

- ア 中国には経済特区があり、日本の企業も進出し、共同開発などを行っている。
- イ 韓国では日本のアニメが、日本では韓流ドラマが流行するなど文化交流がさかんである。
- ウ 日本は、教育や医療、農業などの技術を生かしたい人たちを青年海外協力隊として発展途上国に派遣するという国際協力を行っている。
- エ 政府から独立して活動するSDGsという民間団体が、日本をふくむ世界各地で医療、教育などのボランティア活動を行っている。

(6) 会話中の下線部の⑥参議院について、以下の問いに答えなさい。

- ① 参議院は、国の進む方向を決めるために、法律を制定するなどの仕事を行っています。日本の国会を構成しているのは、参議院ともう一つは何か、答えなさい。
- ② 国の政治は、国会・内閣・裁判所の三つの機関が、仕事を分担して進めています。このうち、内閣が行う仕事として正しいものを次のア～エから1つ選び、記号で答えなさい。

- ア 外国と条約を結ぶ
- イ 法律が憲法に違反していないか調べる
- ウ 国の予算を決める
- エ 憲法を改めるかどうかを国民に提案する

(7) 会話中の(A)に関して、以下の問いに答えなさい。

- ① 以下の文章は、日本国憲法第十四条の条文です。

「すべて国民は、法の下に平等であって、(A)、信条、性別、社会的身分又は門地により、政治的、経済的又は社会的関係において、差別されない。」

上の条文中および会話中の(A)にともに当てはまる言葉を、会話文から考えて答えなさい。

- ② 上記の(A)や信じる宗教、性別など、簡単に変えることができない要素を取り上げて、特定の個人や集団を攻撃する投稿や発言のことを「ヘイトスピーチ」と呼びます。これに関連する以下の日本国憲法の条文と説明を読み、あとの問いに答えなさい。

憲法第十三条「すべて国民は、個人として尊重される。生命、自由及び幸福追求に対する国民の権利については、公共の福祉に反しない限り、立法その他の国政の上で、最大の尊重を必要とする。」

「公共の福祉」とは、社会全体の利益を指し、これを優先する必要がある場合に、例外的に人権の制限が認められます。

憲法第二十一条「集会、結社及び言論、出版その他一切の表現の自由は、これを保障する。」

「ヘイトスピーチ」を行っている本人は、憲法第二十一条の「表現の自由」を根拠にして自らの言動が正しいと主張していますが、憲法第十三条をふまえると、認められません。この理由を、憲法の条文や「公共の福祉」に関する説明を参考にして、簡単に説明しなさい。

※のらんには記入しないこと

1

(1) [ ]

(2) [ ]

(3) [ ]

(4) [ ]

(5) [ ]

(6) 古 → → 新

(7) [ ] [ ]

(8) [ ]

(9) [ ]

2

(1) [ ]

(2) [ ]

(3) 核兵器を [ ]

※

※

受験番号

[ ]

氏名

[ ]

※1~3

2

(4) [ ]

(5) [ ]

(6) [ ]

(7) [ ]

※

3

(1) [ ]

(2) ドイツ [ ] ロンドン [ ]

(3) [ ]

(4) [ ]

(5) [ ]

※

(6) ① [ ]

② [ ]

(7) ① [ ]

② [ ]

※のらんには記入しないこと

1

(1) 石包丁

(2) 貴重な資源である鉄の最も古い時期のものが出土することから、ヤマト王権の本拠地は奈良県にあり、熊本県から埼玉県までの地域を支配してその地の王に鉄を分け与えたと考えられる。

(3) 聖武天皇

(4) ウ

(5) 元

(6) ⑤ イ → ア → ウ ⑥

(7) ア エ

(8) 朝鮮

(9) イ

2

(1) ア

(2) エ

(3) 核兵器を 持たず、作らず、持ち込ませず

※

※

受験番号

氏名

※1~3

2

(4) 促成栽培

(5) ウ

(6) ウ

(7) 群馬県

※

3

(1) エ

(2) ドイツ イ ロンドン ア

(3) イ

(4) ア

(5) エ

※

(6) ① 衆議院

② ア

(7) ① 人種

② 特定の個人や集団を攻撃するヘイトスピーチは、すべて国民は法の下に平等だと定めた憲法十四条に反する行為であり、そのような差別行為は社会全体の利益を損ねるため、公共の福祉に反するような国民の自由・権利は尊重されないと定めた憲法十三条によって制限を受けるから。